


Opgaver fra Vesterhavsturneringen 2007




Claus Marcussen – Leif Jensen

Hvid har lige spillet 19.Td1

Find sorts bedste træk,

som måske var turneringens bedste træk !!




Erik Pontoppidan 1723 – Thomas Flindt 2196

Hvid står til gevinst, men spillede 22.Dh6

Find sorts bedste træk !

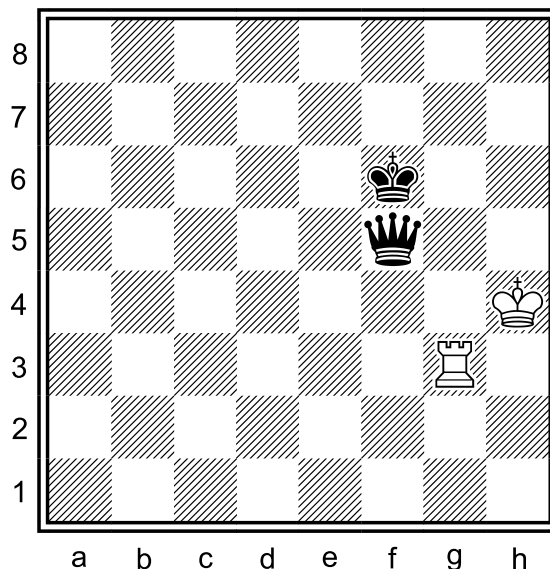
Hvad skulle hvid have spillet i stedet for Dh6 ?



Morten Swayne Storgaard – Karsten Fyhn

tog remis efter 42.Dxb4


Hvordan vinder hvid i trækket?




Jens Olaf Fogh – Lars Schönning

Hvid trækker og holder remis !


Opgaver fra Vesterhavsturneringen 2007




Hans Henrik Willumsen – Karsten Jacobsen
Sort opgav efter 2 hvide træk, hvilke ?



Jesper Lauridsen – Niels Bindzus
Hvid sætter mat i 6 træk




René Henriksen – Mads Andersen
Find sorts bedste træk !




Amalie Lindestrøm – Egon Rysgaard Madsen
Sort sætter mat i 2 træk


Opgaver fra Vesterhavsturneringen 2007




Kristoffer Dyrgaard – Niels Bindzus
Find hvids bedste træk !



Dennis Larsen – Christoffer Ellegaard Christensen
Hvid spillede Le3 og blev sat mat i 1 træk, hvordan ?
Find i stedet det hvide træk,
der kan udsætte matten til efter 7 sorte træk



Nina Høiberg – Karsten Fyhn
Hvid sætter mat i 2 træk !



Finn Petersen – Torben Kristensen
Hvid satte mat efter 3 træk !
Den ideelle opgave lyder :
Hvid sætter mat i 6 træk !